

Автономная некоммерческая организация профессионального образования
«Старая школа»
(АНО ПО «Старая школа»)

РАССМОТРЕНО
Педагогическим Советом
АНО ПО «Старая школа»
Протокол №1 от 13.06.2024г.

Макарова М.А. / 

«13» июня 2024г.



УТВЕРЖДЕНО
Директор АНО ПО «Старая школа»

Макарова М.А. / 

«13» июня 2024г.



**ФОНД
ОЦЕНОЧНЫХ МАТЕРИАЛОВ**
для проведения текущего контроля
и промежуточной аттестации обучающихся
в АНО ПО "Старая школа"
учебного предмета
«Изобразительное искусство»
для 4 класса

Москва
2024 г.

Демо-версия КОС

Административная входная контрольная работа по изобразительному искусству 4 класс

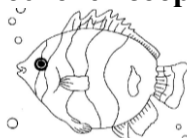
1. Отгадай загадку.

Он пишет красками пейзаж,
Он и портрет напишет наш.
У него палитра и треножник.
Потому, что он _____

2. Белая бумага или дощечка для смешивания красок и получения нужного цвета называется -
а) палитра; б) гуашь; в) акварель.

3. Какая геометрическая фигура лежит в основе изображения рыбки?

- а) прямоугольник в) овал
б) квадрат г) треугольник



4. Какой росписью украшена деревянная посуда?

- а) Гжельской росписью;
б) Хохломской росписью;
в) Дымковской росписью



5. Какой цвет, из ниже перечисленных цветов, тёплый?

- а) жёлтый;
б) фиолетовый;
в) синий

6. Реши художественные примеры

Жёлтый + красный = _____

Синий + белый = _____

7. Какой из перечисленных цветов является основным (его нельзя получить путём смешивания других цветов)?

- а) зелёный в) фиолетовый
б) красный г) оранжевый

8. Какое из перечисленных понятий обозначает вид изобразительного искусства?

- а) музыка б) живопись в) кино

9. Кто написал картину «Грачи прилетели»? Определи жанр
Соедини стрелкой фамилию художника и название жанра

- а) И. Левитан пейзаж
б) А. Саврасов исторический



10. Вид кукол, которые надеваются на руку, и управляет ими один человек

- а) ростовые б) тростевые в) перчаточные

11. В какой росписи используются только белая и синяя краски?

- а) хохломская б) дымковская в) гжель

12. Выбери примеры изображения витрин



13. Определи соответствие жанра и картины

бытовой жанр

натюрморт

портрет

пейзаж

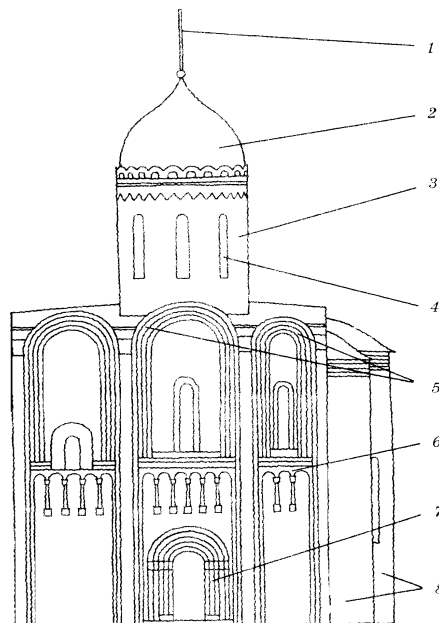


Демо-версия КОС
Административная промежуточная контрольная работа по изобразительному искусству 4
класс

1. Назови 3 основных цвета в живописи: _____
2. Какие цвета является тёплым: _____
3. Расшифруйте пословицу «Каждый охотник желает знать, где сидит фазан?» (перечислите цвета радуги) _____
4. Какие цвета наиболее характерны для произведений гжельских мастеров: _____
5. Выбери из перечисленных ниже промыслов три промысла народной игрушки и подчеркни их: Хохлома, Дымково, Жостово, Филимоново, Каргополь, Гжель.
6. Назови виды орнамента: _____
7. Какие произведения искусства хранятся в музеях? (стрелочкой найти соответствия)

Изображение человека	Архитектура
Изображение природы	Натюрморт
Изображение «неживых» предметов	Пейзаж
Лепка человека или животного	Дизайн (декор)
Украшение предметов	Скульптура
Проекты зданий	Портрет
8. Воображаемая линия, которая отделяет небо от земли: _____
9. Назови древнерусские гор _____
10. От какого слова произошло слово «город»: _____
11. Древнерусский женский головной убор: _____
12. Как назывались большие залы в княжеских дворцах: _____
13. Какие жанры живописи ты знаешь: _____
14. Самая украшенная часть дома: _____
15. Подпишите части Храма.

Слова для справок: портал (вход), купол, закомары, крест, декоративный пояс, окно, барабан, апсида (алтарь).



Демо-версия КОС
Административная итоговая контрольная работа по изобразительному искусству

4 класс

1. Найди соответствие:

- | | |
|--|-------------|
| А) отапливаемый жилой крестьянский дом | А) наличник |
| Б) столб, опора для перекрытия | Б) акрополь |
| В) украшенное обрамление окна | В) изба |
| Г) укрепленная часть древнегреческого города | Г) колонна |

2. Почему деревня называется «деревней»?

3. Окно в русской избе - связь с внешним миром. Напиши известные тебе части окна.

Перечисли народные праздники, которые ты знаешь.

4. Найди соответствия между цветом купола и их значением:

А) Золотой	А) посвящались Троице и символизировали Святой дух
Б) Синий или голубой	Б) символ небесной славы, посвящены Иисусу Христу
В) Зеленый	В) посвящены Святым
Г) Серебряный	Г) посвящены Богородице

5. Изразцы – это

- А) торжественно украшенный вход;
- Б) яркие, цветные и блестящие керамические плитки;
- В) ряд скрепленных друг с другом бревен.

6. Потолки терема были сводчатые и поддерживались крепкими толстыми столбами...

- А) колоннами
- Б) опорами
- В) стенами

7. Грядницы – это...

- А) большие залы, где устраивались пиры
- Б) подвальное помещение
- В) спальная комната.

8. При строительстве древнего города на самом высоком месте обязательно строили

- А) забор
- Б) смотровую башню
- В) собор, храм

9. Установи соответствие:

	арка
изба	сруб
	купол
собор	изразцы
	наличники

10. Подчеркни лишнее слово в каждой строке:

- А) кимоно, Япония, Акрополь, пагода;
- Б) иглу, чум, юрта, мечеть;
- В) готический собор, Кремль, витраж, арка;
- Г) Дорический храм, Парфенон, Ионический храм, Успенский собор.

11. Выбери особенности японского пейзажа

- А) спокойный с широкими полями и лесами
- Б) гористый, солнечный с пальмами и кипарисами
- В) гористый с туманами и водопадами

12. Соотнеси одежду и материал:

КИМОНО	ХОЛСТ
--------	-------

рубаха	шерсть
хитон	шелк

13. Особенности готического стиля архитектуры (выбери и подчеркни)

- А) обилие украшений, стрельчатые окна с витражами, высокие крыши
- Б) двускатные и шатровые крыши, купола и закомары
- В) пологие крыши, колоннады, фризy

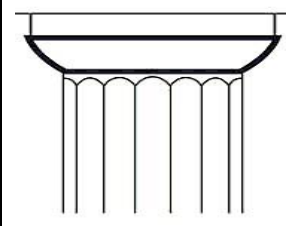

14. Установи соответствие:

яранга	эскимосы
иглу	народы севера
чум	жители степей
юрта	оленоводы

16. Установи соответствие:

А) минарет	А) вход, похожий на огромную букву «п»
Б) медресе	Б) башня, с которой служители храма призывают к молитве
В) мечеть	В) религиозный университет
Г) мавзолей	Г) храм, где совершают молитву
Д) портал	Д) усыпальница

17. Найди соответствие вида храма по капители колонны:

 <p>А</p>	А) ДОРИЧЕСКИЙ
 <p>Б</p>	Б) ИОНИЧЕСКИЙ

18. Как называли колонны здания в виде женских фигур в Древней Греции?

19. Перечисли особенности одежды Средневековой Европы:

20. Перечисли великие темы искусства. Раскрой одну из них.
