

Автономная некоммерческая организация профессионального образования
«Старая школа»
(АНО ПО «Старая школа»)

РАССМОТРЕНО

Педагогическим Советом
АНО ПО «Старая школа»
Протокол №1 от 13.06.2024г.

Макарова М.А. / 

«13» июня



УТВЕРЖДЕНО

Директор АНО ПО «Старая школа»

Макарова М.А. / 

«13» июня

2024г.



ФОНД
ОЦЕНОЧНЫХ МАТЕРИАЛОВ
для проведения текущего контроля
и промежуточной аттестации обучающихся
в АНО ПО "Старая школа"
учебного предмета «Окружающий мир»
для 3 класса

Москва
2024 г.

**Паспорт
фонда оценочных средств**

по учебному предмету Окружающий мир

Класс 3

№ п/п	Контролируемые разделы (темы) предмета	Наименование оценочного средства
1	Тема 1. Как устроен мир	Рабочая тетрадь, тест, контрольная работа.
2	Тема 2. Эта удивительная природа	Рабочая тетрадь, тест, контрольная работа.
3	Тема 3. Мы и наше здоровье	Рабочая тетрадь, тест, контрольная работа.
4	Тема 4. Наша безопасность	Рабочая тетрадь, тест, контрольная работа.
5	Тема 5. Чему учит экономика	Рабочая тетрадь, тест, контрольная работа.
6	Тема 6. Путешествие по городам и странам	Рабочая тетрадь, тест, контрольная работа.

Демо-версия КОС

Административная входная контрольная работа по окружающему миру 3 класс

1. Назови объект неживой природы.

- а) сосна б) звезда в) ромашка г) воробей

2. Какое явление относится к осадкам?

- а) гром б) дождь в) гололёд г) ветер

3. Назови природное явление, не связанное с изменением сезона?

- а) сильный ветер в) листопад
б) таяние снегов г) появление почек на деревьях

4. К какой группе животных относятся лягушки?

- а) к зверям в) к насекомым
б) к земноводным г) к рыбам

5. К какому виду транспорта относится вертолёт?

- а) к водному в) к воздушному
б) к наземному г) к подземному

6. Какие функции выполняют лёгкие?

- а) орган дыхания в) управляют работой организма
б) орган пищеварения г) гонят кровь по телу

7. Как называется земная поверхность, которую мы видим вокруг себя?

- а) горизонт в) Земля
б) линия горизонта г) открытая местность

8. Как называются углубления с крутыми склонами на равнинах?

- а) горы б) холмы в) овраги г) балки

9. Какое из перечисленных растений является ядовитым:

- а) вороний глаз б) костяника в) рогоз г) лён

10. Выбери кустарник, который не является культурным:

- а) крыжовник б) орешник в) облепиха г) смородина

11. Как правильно записать показание термометра «пять градусов тепла»?

- а) +5; б) -5°; в) +5г.; г) 5°.

12. Какое из этих растений является культурным?

- а) подорожник; в) крапива;
б) репейник; г) пшеница.

13. Признаком каких животных являются шесть ножек?

- а) насекомых; в) птиц;
б) рыб; г) зверей.

14. Что обозначает этот знак ?

- а) подземный пешеходный переход;
б) надземный пешеходный переход;
в) пешеходный переход;
г) вход или выход.



15. Что НЕ относится к внутренним органам человека?

- а) голова; в) желудок;
б) сердце; г) легкие.

16. Какой из этих грибов ядовит?

- а) сыроежка; в) волнушка;
б) рыжик; г) бледная поганка.

17. Какой материк по площади является самым маленьким?

- а) Евразия в) Австралия
б) Северная Америка г) Африка

Демо-версия КОС

Административная промежуточная контрольная работа по окружающему миру 3 класс

1. *Водяной пар – эта вода...*

- а) в твердом состоянии;
б) в жидком состоянии;
в) в газообразном состоянии.

2. Ты вымыл пол в классе. Почему через некоторое время он стал сухим?

- а) вода с поверхности пола испарилась;
б) вода впиталась в поверхность пола;
в) вода осталась на подошвах обуви учеников, которые ходили по классу.

3. Что такое почва? Обведи нужную букву.

- а) это верхний слой земли;
б) это вещество черного или серого цвета;
в) это верхний плодородный слой земли.

4. Что влияет на плодородие почвы? Обведи нужную букву.

- а) наличие в почве перегноя;
б) наличие в почве воды;
в) наличие в почве песка и глины.

5. Как называется наука о растениях? Обведи нужную букву.

- а) ботаника;
б) зоология;
в) астрономия.

6. Какие группы растений существуют? Обведи нужную букву.

- а) папоротники, водоросли, мхи, животные, цветковые и хвойные;
б) мхи, грибы, водоросли, папоротники, цветковые и хвойные растения;
в) водоросли, цветковые и хвойные растения, мхи, папоротники.

7. Что нужно семени для прорастания? Обведи нужную букву.

- а) перегной;
б) остатки растений и животных;
в) тепло, вода, воздух.

8. Как называется наука о животных? Обведи нужную букву.

- а) ботаника;
б) зоология;
в) астрономия.

9. Какие группы животных существуют?

- а) птицы, звери, насекомые, рыбы, пресмыкающиеся, земноводные, ракообразные, моллюски, растения, черви, паукообразные, иглокожие;
б) насекомые, земноводные, звери, моллюски, черви, пресмыкающиеся, птицы, иглокожие, ракообразные, рыбы, паукообразные;
в) моллюски, звери, иглокожие, паукообразные, грибы, микробы, ракообразные, птицы, черви, насекомые, земноводные, рыбы, пресмыкающиеся.

10. Какое слово пропущено

Икринка – – взрослая рыба.

- а) личинка;

б) малёк;

в) головастик.

11. Допиши предложение.

Животные, которые откладывают яйца и насиживают их, согревая их своим теплом, это -

12. Какой гриб в каждой строке «чужой»? Вычеркни его. Назови оставшуюся группу грибов.

Подберёзовик, лисичка, волнушка, опёнок, мухомор.

Это - _____.

Мухомор, бледная поганка, белый гриб, ложный опёнок.

Это - _____.

13. Допиши предложения.

Глаза – орган _____.

Кожа – орган _____.

Нос – орган _____.

14. По перечисленным признакам определи группу животных. Допиши предложение.

Животные, которые имеют мягкое тело, защищенное раковиной – это _____.

Животные, тело которых покрыто перьями – это _____.

15. Обозначь цифрами последовательность развития растения из семени.

Взрослое растение с плодами и семенами;

Проросток с развивающимся стеблем и листочками;

Семя;

Взрослое растение с цветками;

Проросток с развивающимся корешком.

16. Прочитай текст. Какое явление природы в нем описано?

Облако → капля воды → поверхность океанов, морей, рек и суши →
испарение воды → водяной пар → облако.

Это _____.

17. Люди заметили, что там, где хищников не осталось, растительных животных – зайцев, кабанов, оленей, тетеревов – сначала становится больше, а потом всё меньше и меньше. Почему?

Демо-версия КОС

Административная итоговая контрольная работа по окружающему миру

3 класс

1. Как называется наука, изучающая живую природу:

- а) астрономия б) экология в) биология г) анатомия

2. Что отличает человека от других живых существ:

- а) движение б) рост в) разум г) дыхание

3. Что относится к характеристике страны:

- а) цвет кожи
б) государственные символы
в) национальные песни
г) жизнь под одной крышей

4. Укажи культурное травянистое растение:

- а) рожь б) крапива в) осот г) одуванчик

5. Что не относится к телам:

- а) луна б) камень в) соль г) карандаш

6. Какое животное относится к группе насекомых:

- а) паук б) дождевой червь в) стрекоза г) рак

7. Какой орган относится к кровеносной системе:

- а) почки б) лёгкие в) сердце г) мозг

8. О чём идёт речь в тексте?

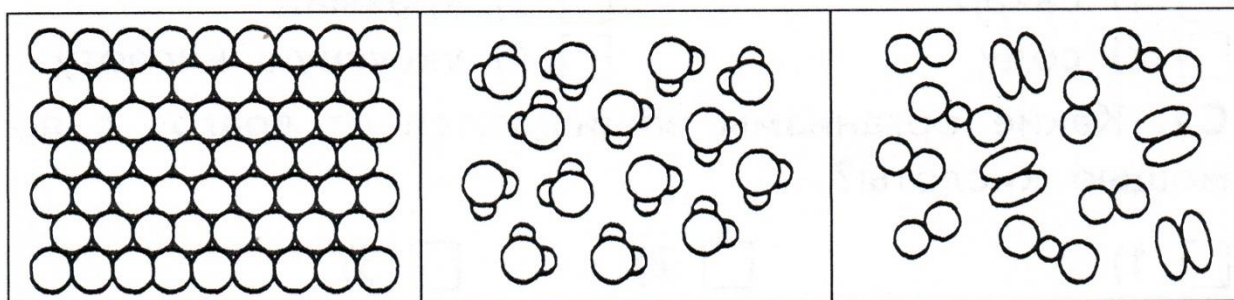
В нём часто встречаются раковины разнообразной формы и величины, потому что он образовался на дне морей и океанов из раковин и скелетов морских животных. Используют его в строительстве, а также как удобрение.

- 1) об известняке 3) о торфе
2) о жемчуге 4) о песке

9. Из чего делают бензин:

- а) из торфа б) из нефти в) из железной руды г) из природного газа

10. Какая схема относится к твёрдым веществам?



1

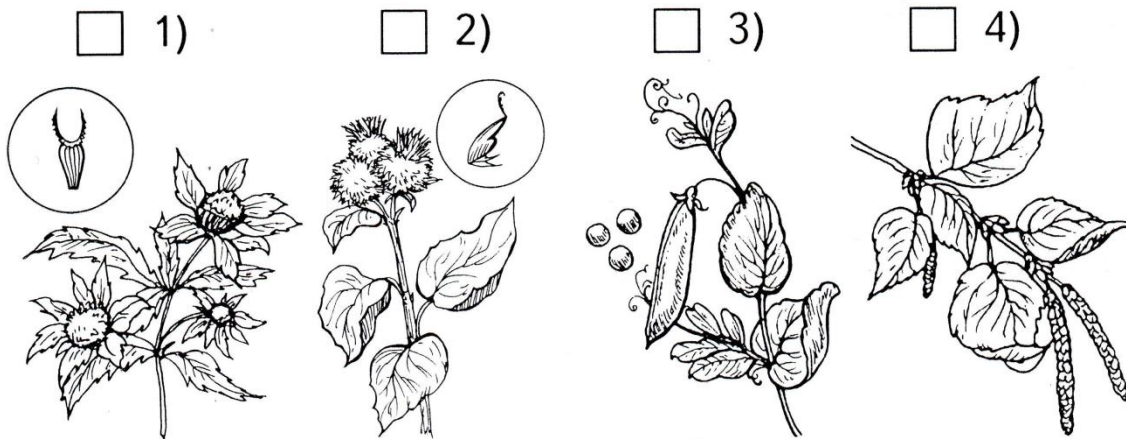
2

3

11. Что даёт животноводство:

- а) шерсть б) овощи в) зерно г) лён

12. Какие растения распространяются с помощью человека и животных?



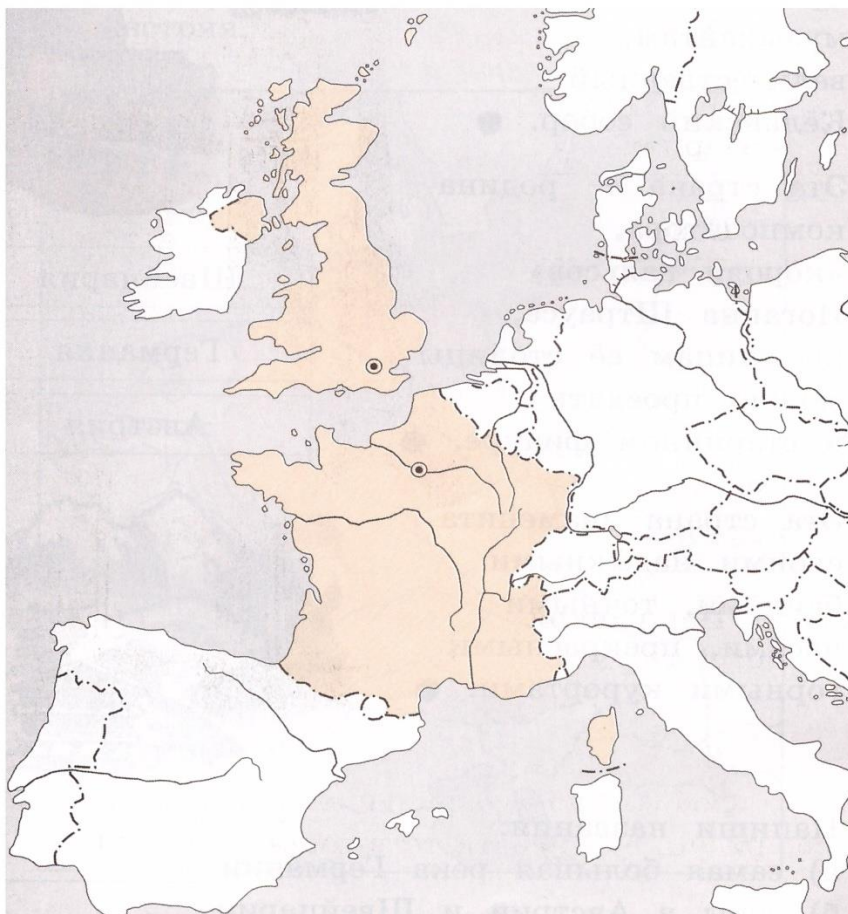
13. Какие знаки относятся к знакам сервиса?

1. движение пешеходов запрещено 3. место остановки трамвая
 2. автозаправочная станция 4. пункт питания

14. Приведи примеры различных видов доходов семьи (не менее двух):

15. Пронумеруй страны. Подпиши их столицы.

- 1) Великобритания 2) Франция



16. Какие цепи питания можно составить из этих живых существ: волк, ель, заяц, куница, осина, белка?

- 1) куница – белка – ель
 2) осина – заяц – волк

3) ель – белка – куница

4) ель – куница – волк

17. Какую роль играет опорно-двигательная система?

1) обеспечивает опору и движение организма

2) защищает многие внутренние органы от повреждений

3) обеспечивает процесс пищеварения

4) выводит из организма вредные вещества

18. Какие телефоны должны быть в твоей записной книжке на случай опасности:

а) 01

б) 025

в) 03

г) 04

19. Какие города входят в Золотое кольцо?

1) Санкт-Петербург 2) Суздаль 3) Владимир 4) Углич

20. Прочитай:

Сахарница, сахар, солонка, соль, вода, бутылка, кислород, молоко, водород.

Выпиши из списка:

А) твёрдые вещества _____

Б) жидкие вещества _____

В) газы _____

21. Что воспринимает каждый орган чувств? Допиши предложения.

Глаза – орган _____.

Кожа – орган _____.

Нос – орган _____.

22. Чем полезны бактерии?

1) помогают переваривать пищу

2) их добавляют в тесто

3) очищают воздух

4) делают из молока йогурт

23. Какие государства являются сухопутными соседями России?
